


CYCLE 3  6eme	<u>FICHE D'ACTIVITE</u>	Activité <b>1</b>
	<i>CI 1 – De quoi est composé un ordinateur</i>	Page 1 sur 2

**Exercice 1** :  (en demi-groupe)

T4	T5					
----	----	--	--	--	--	--

1/ Démarrez les ordinateurs en vous mettant un par poste et sans courir

2/ Connectez-vous à votre session.

Exemple pour un élève : Pierre Richard né le 01/09/2001 :

Son Login est la première lettre de son prénom suivi de son nom : prichard

Son mot de passe est sa date de naissance sans espace et sans barre : 01092001

3/ Un fois sur le bureau, lancez l'application (le logiciel) **DécouOrdi** qui se trouve dans poste de travail, Disque T :, travail, technologie, logiciel, découvre ordi.

4/ Remplissez les définitions et le tableau en vous aidant de l'application. Faites à chaque fois les exercices proposés dans le logiciel. **Appelez le professeur après chaque exercice réussi avant de passer au suivant.**

<b>Les définitions</b>
<u>Périphérique d'entrée</u> : .....
.....
<u>Périphérique de sortie</u> : .....
.....


Périphérique d'entrée	Périphérique de sortie	Périphérique d'entrée et de sortie

Exercice	Visa du professeur
Imprimante	
Clavier	
Souris	

Ne remplissez pas le tableau ci-contre. Il est réservé au professeur




CYCLE 3  6eme	<u>FICHE D'ACTIVITE</u>	Activité <b>1</b>
	<i>CI 1 – De quoi est composé un ordinateur</i>	Page 2 sur 2

**Exercice 2 :**  (en demi-groupe)

T4	T5	Li7				
----	----	-----	--	--	--	--

Retrouvez les informations utiles concernant cet ordinateur en vous aidant de sa page internet.

Nombre de port USB 2	
Système d'exploitation	
Nombre de port USB 3	
Autonomie batterie	
Poids	
Taille de l'écran	
Fréquence processeur	
Quantité mémoire vive	
Capacité disque dur	

**Travail à faire à la maison :** 

En faisant une recherche sur Internet, écris une phrase récapitulative qui permet de comprendre la principale différence entre ces deux mémoires (écris uniquement ce que tu comprends).

La mémoire vive : .....

.....


.....

La mémoire morte : .....

.....

.....

Julien vient d'acheter l'ordinateur ayant les caractéristiques ci-dessus. Il a également acheté un jeu. En arrivant chez lui il constate l'indication suivante au verso du jeu.



Que signifie cette indication ? Le jeu fonctionnera t'il sur l'ordinateur de Julien ?

.....

.....

.....

.....